

Segunda tarea

Fecha de envío: lunes 16 de marzo


Obs: Todas las tareas deberán entregarse en una carpeta cuando se retomen las actividades normales en la institución.

ÁREA: CASTELLANO

Nombre y Apellido: _____

Fecha: _____ Grado: 1° " _____ "

ENUMERO LOS CUADRITOS SEGÚN CORRESPONDE A LA SECUENCIA Y LUEGO PINTO LOS DIBUJOS



Segunda tarea

Fecha de envío: lunes 16 de marzo






Obs: Todas las tareas deberán entregarse en una carpeta cuando se retomen las actividades normales en la institución






ÁREA: MATEMÁTICA

Nombre y Apellido: _____

Fecha: _____ Grado: 1° " ____ "

RECORTO LAS FIGURAS Y PEGO EN EL CUADRO QUE CORRESPONDE

	1	
	2	
	3	
	4	
	5	

Centro Educativo "Los Laureles"