


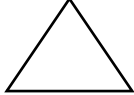

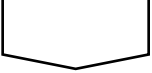


EDUCACION FISICA.
ORIENTACION DEPORTIVA.

ACTIVIDAD EDUCATIVA.

ELABORA EL PLANO DE TU AULA EN UNA HOJA A MANO. Hoja cuadriculada.

Usa estas figuras geométricas para ubicar en tu plano donde se encuentran, las cantidades exactas.

MESA.	SILLA	PIZARRA	PUERTA	VENTANA	MESA DE LA PROFE
					

EJEMPLO DE MAPA O CROQUIS DEL AULA.

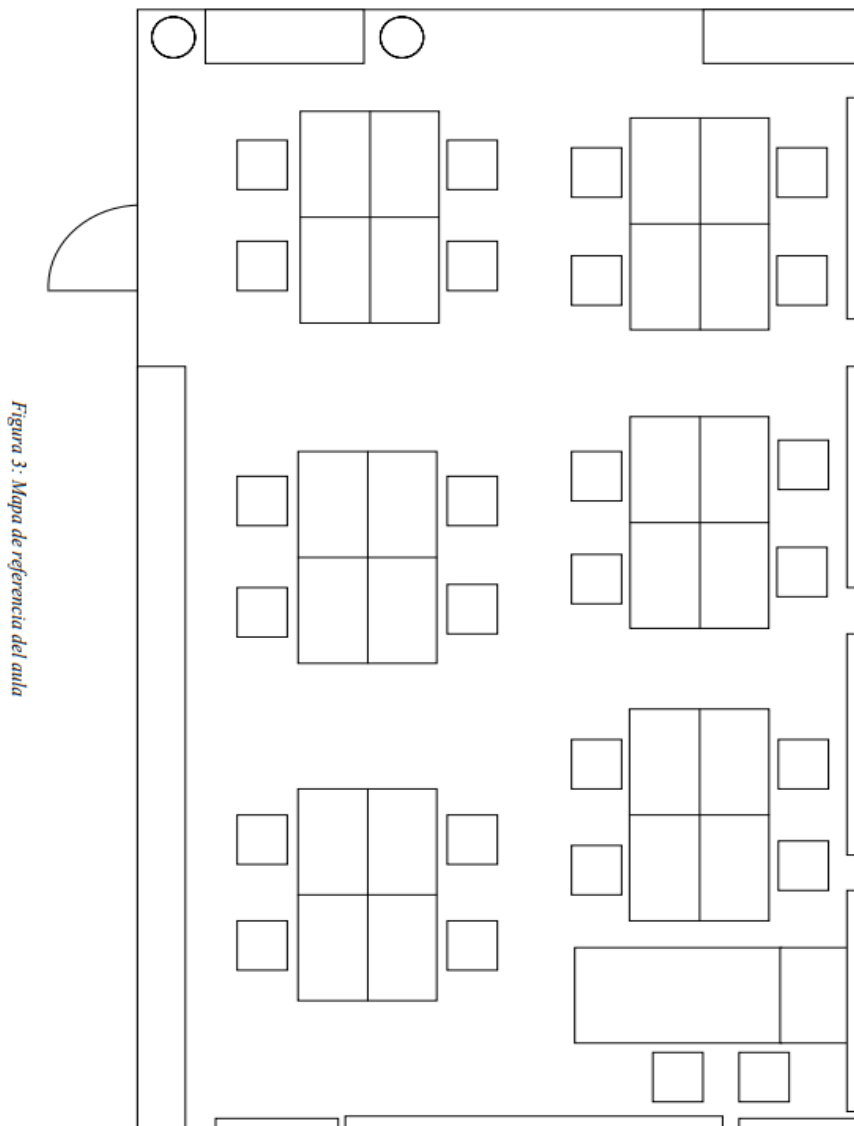
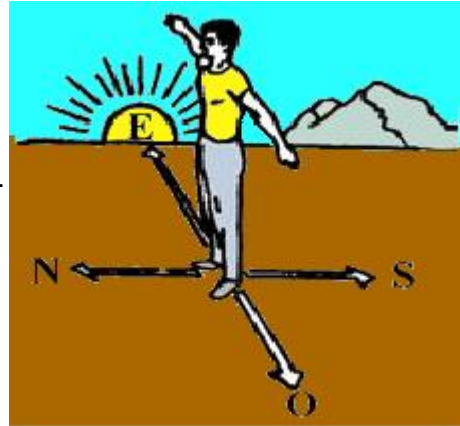


Figura 3: Mapa de referencia del aula

Teniendo de referencia el sol; sale por el ESTE, nos colocamos del lado sagital derecho y así sabremos cuales son los puntos cardinales NORTE, SUR, ESTE, OESTE.

ESTE lado de la derecha.

NORTE lado del frente.



SUR lado de la espalda.

OESTE lado de la izquierda.

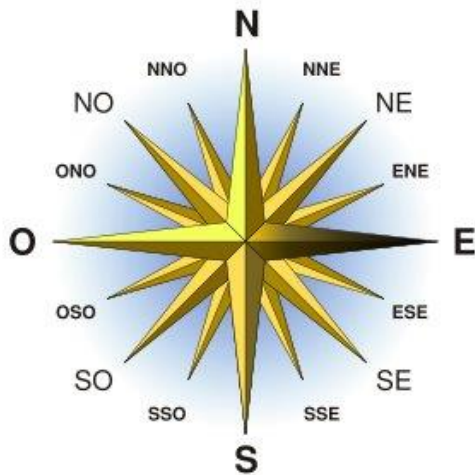
Conocemos nuestros puntos cardinales. Leerlo en el sentido horario.

NORTE. Nornoroeste. Noreste. Estenordeste.

ESTE. Estesudeste. Sureste. Sur sureste.

SUR. Sur suroeste. Suroeste. Oeste suroeste.

OESTE. Oeste noreste. Noroeste. Nornoroeste.



ORIENTACION DEPORTIVA.

ACTIVIDAD EDUCATIVA.

¿Cuáles son las calles que rodean el colegio, y a que orientación pertenece?

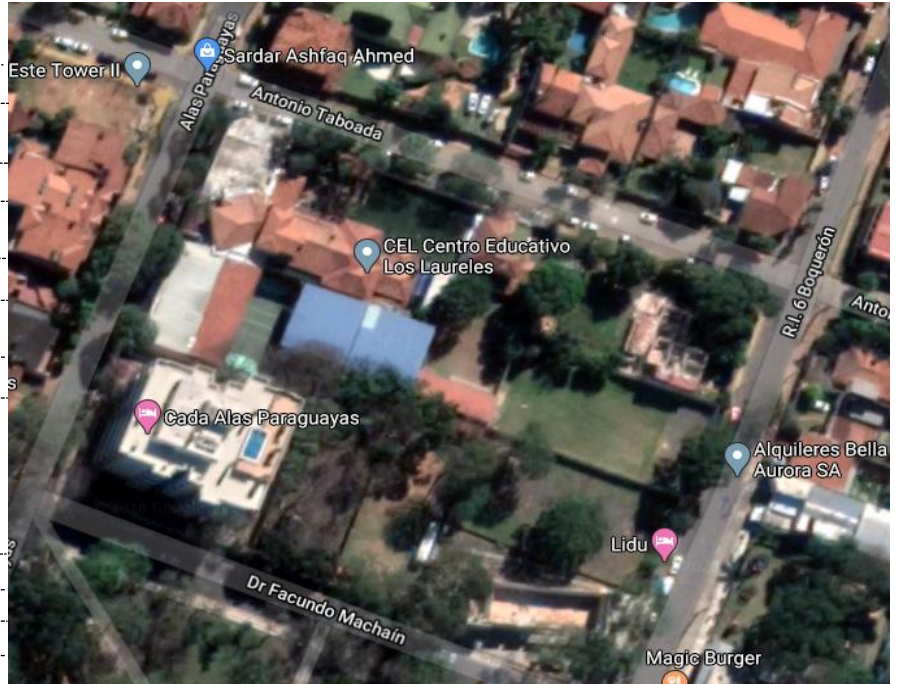
NORTE:

SUR:

ESTE:

OESTE:

¿A qué barrio pertenece el colegio?



SEGÚN EL MAPA.

¿Cuáles son las plazas que están cerca del colegio, nómbralos?

¿A cuántas cuadras están c/u del colegio?

¿Cuál es según la orientación al que pertenecen las plazas;

NORTE. SUR. ESTE. OESTE?



.....

.....

.....

.....

.....

.....

Nombra 5 edificios o referencias que estén al;

NORTE:

SUR:

ESTE:

OESTE:

